



Educación Matemática

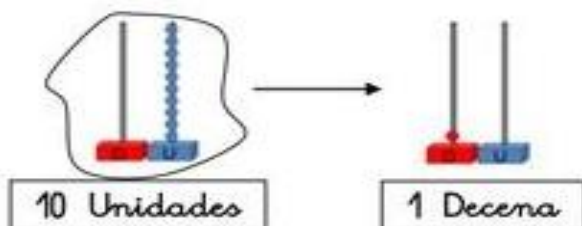
Docente: Elisabeth Schilling

2° Básico 2.021

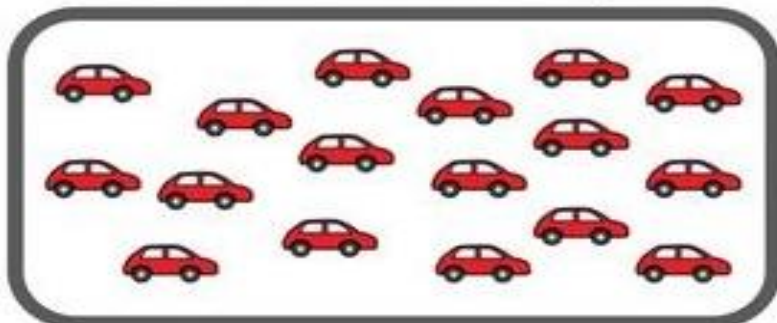
Nombre: _____

Fecha: 17 a 20 de mayo


Objetivo: Recordar que los números de dos dígitos se agrupan en decenas.




Rodea una decena y escribe cuántos hay.



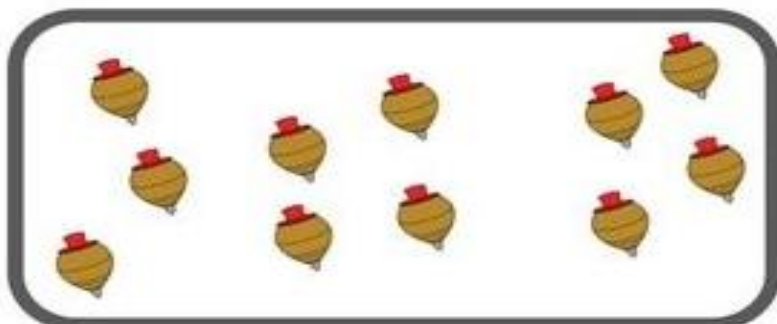
[]	[]
Decenas	Unidades



[]	[]
Decenas	Unidades



[]	[]
Decenas	Unidades



[]	[]
Decenas	Unidades

1 Haz grupos de 10 y completa.

decenas

decenas

decenas y unidades

decenas y unidades

decenas y unidades

decenas y unidades



Educación Matemática

Docente: Elisabeth Schilling

2° Básico 2.021

Nombre: _____

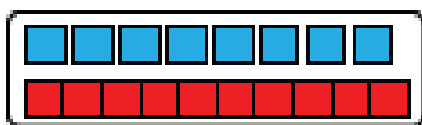
Fecha: 17 a 20 de mayo

Objetivo: Reconocer que los números de dos cifras se pueden agrupar en decenas y unidades.

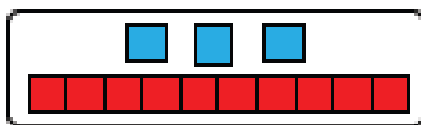
Cuenta, lee y une. No olvides avanzar en los textos de matemática, hay muchas actividades.

Todo aprendizaje es más significativo cuando lo ejercitas muchas veces.

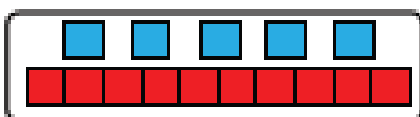
11



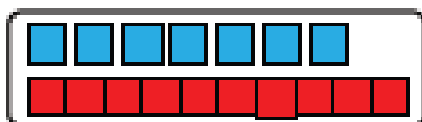
17



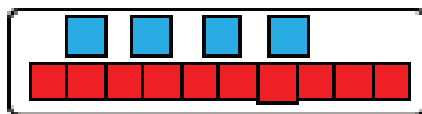
13



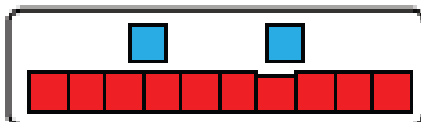
15



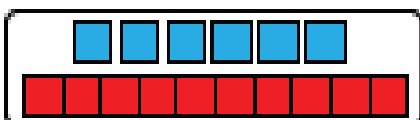
14



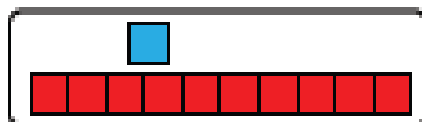
12



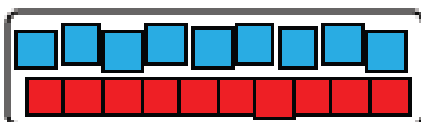
10



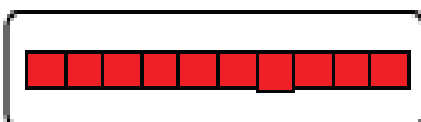
18



19



16





Educación Matemática

Docente: Elisabeth Schilling

2° Básico 2.021

Nombre: _____

Fecha: 17 a 20 de mayo

Objetivo: Realizar adiciones con reservas.

Sumas llevando

¡Acuérdate de empezar a sumar siempre por las unidades y no te olvides de sumar la que te llevas!

		↓			
+	6	8	+	2	6
	2	3		3	5

		↓			
+	5	5	+	3	9
	1	7		1	2

		↓			
+	6	8	+	3	8
	2	3		2	4

		↓			
+	5	5	+	3	9
	1	7		1	2

		↓			
+	6	8	+	1	6
	1	3		3	7

		↓			
+	6	8	+	4	9
	1	3		1	5

Educación Matemática

Docente: Elisabeth Schilling


2° Básico 2.021

Nombre: _____


Fecha: 17 a 20 de mayo

Objetivo: Realizar adiciones con reservas.


Realiza las adiciones que encuentres en tu texto escolar, desde la pág. 20, para reforzar tus aprendizajes.




		↓
5	6	
1	4	




		↓
2	6	
2	5	




		↓
1	7	
2	6	




		↓
1	3	
4	7	




		↓
1	5	
6	8	




		↓
2	9	
5	2	



		↓
3	6	
5	5	



		↓
2	9	
2	2	



		↓
5	6	
1	6	

SUMA CON LLEVADAS

$$\begin{array}{r} \text{D} \quad \text{U} \\ \text{O} \\ 3 \quad 7 \\ + 5 \quad 8 \\ \hline \text{O} \quad \text{O} \end{array}$$

$$\begin{array}{r} \text{D} \quad \text{U} \\ \text{O} \\ 6 \quad 5 \\ + 2 \quad 5 \\ \hline \text{O} \quad \text{O} \end{array}$$

$$\begin{array}{r} \text{D} \quad \text{U} \\ \text{O} \\ 3 \quad 4 \\ + 2 \quad 9 \\ \hline \text{O} \quad \text{O} \end{array}$$

$$\begin{array}{r} \text{D} \quad \text{U} \\ \text{O} \\ 4 \quad 8 \\ + 3 \quad 3 \\ \hline \text{O} \quad \text{O} \end{array}$$

$$\begin{array}{r} \text{D} \quad \text{U} \\ \text{O} \\ 4 \quad 5 \\ + 2 \quad 9 \\ \hline \text{O} \quad \text{O} \end{array}$$



$$\begin{array}{r} \text{O} \\ 67 \\ + 7 \\ \hline \end{array}$$

$$\begin{array}{r} \text{O} \\ 27 \\ + 53 \\ \hline \end{array}$$

$$\begin{array}{r} \text{O} \\ 42 \\ + 36 \\ \hline \end{array}$$

$$\begin{array}{r} \text{O} \\ 52 \\ + 19 \\ \hline \end{array}$$

$$\begin{array}{r} \text{O} \\ 36 \\ + 28 \\ \hline \end{array}$$

COMPLETA LA RECTA NÚMERICA

			73				77		
									80
	89					84			