

Educación Matemática

Docente: Elisabeth Schilling

2° Básico 2.021

Nombre: _____








Fecha: 22 a 26 de marzo

Objetivo: Reconocer que los números tienen un orden.

Completa esta tabla con los números desde el 1 al 100

1		3		5		7		9
11		13		15		17		19
21		23		25		27		29
31		33		35		37		39
41		43		45		47		49
51		53		55		57		59
61		63		65		67		69
71		73		75		77		79
81		83		85		87		89
91		93		95		97		99

Aquí debes corregir esta serie. Los números no están en orden. Marca aquel que no corresponde

	0	1	2	3	4	5	6	3	8	9	
	10	11	12	13	24	15	16	17	18	19	
	20	21	22	23	24	25	26	27	82	29	
	30	13	32	33	34	35	36	37	38	39	
	40	41	42	43	44	55	46	47	48	49	
	50	51	52	53	54	55	36	57	58	59	
	60	61	62	63	64	65	66	67	68	79	