



MATEMATICA

ASIGNATURA:	MATEMATICA	CURSO:	1º AÑO	DOCENTE:	ANA P. NEICUL Ñ.
ALUMNO:		FECHA:	SEMANA 10 AL 14/05 DE 2021		

Objetivo(s) de la Clase: Reconocer e identificar los números hasta 10.

LOS NUMEROS HASTA EL 10

Esta semana se va a trabajar con el número **8**, el que tiene ocho elemento.

Y vamos a contar hasta el 10.

Actividad 1

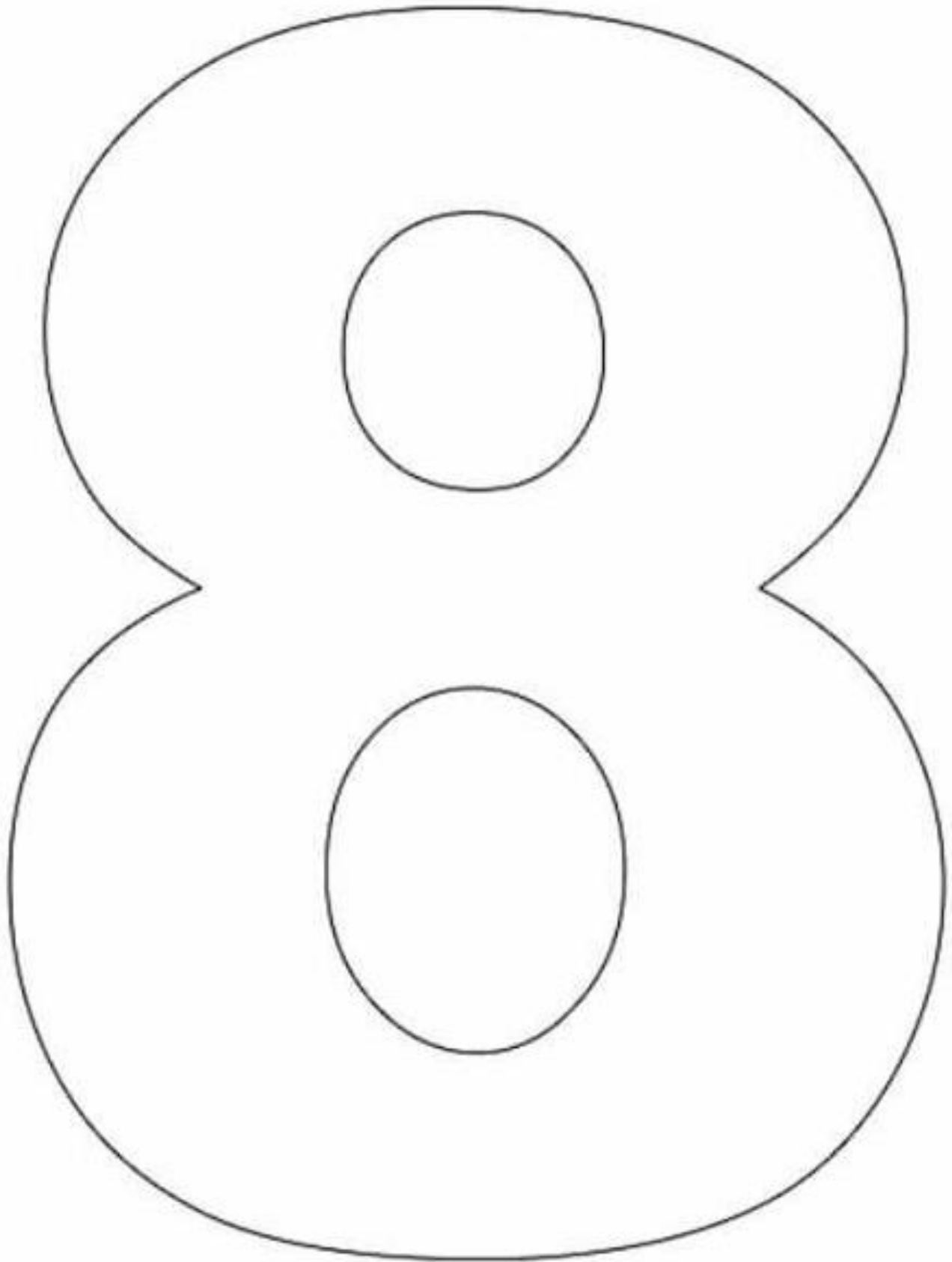
Contar los números del 0 al 10.

8

Uno 1	Dos 2	Tres 3	Cuatro 4	Cinco 5
Seis 6	Siete 7	Ocho 8	Nueve 9	Diez 10

Actividad 2

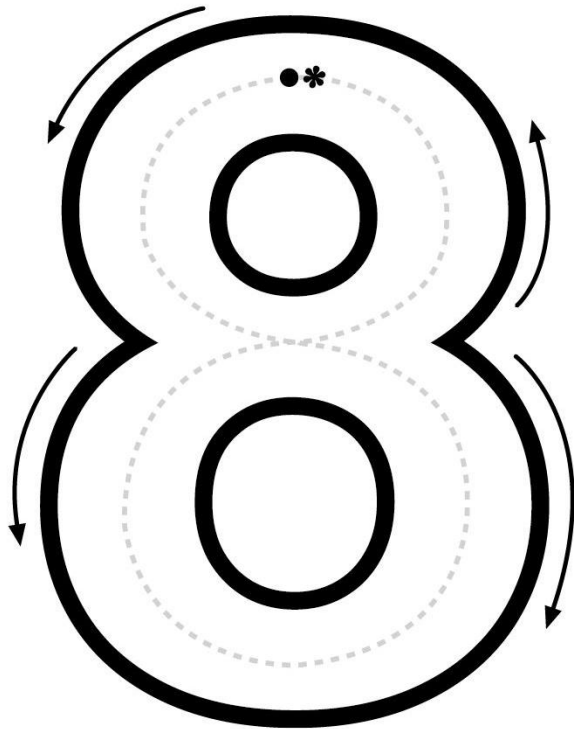
Recorta cuadrados y pégalos sobre el número, sin pasar los márgenes.



Actividad 3

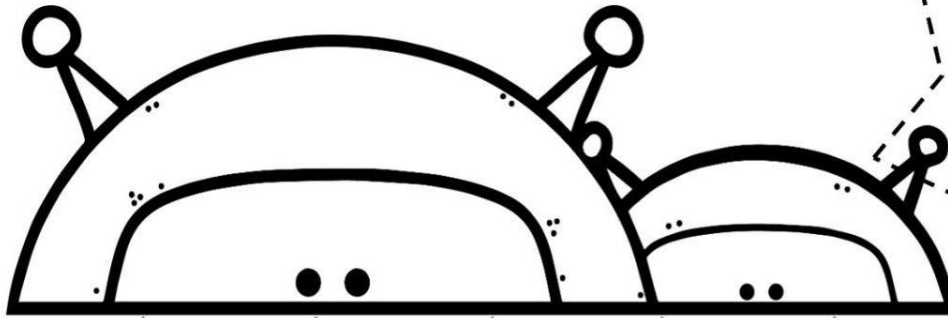


- Repasa el contorno del número 8 y luego colorea solo 8 pelotas.



Actividad 4

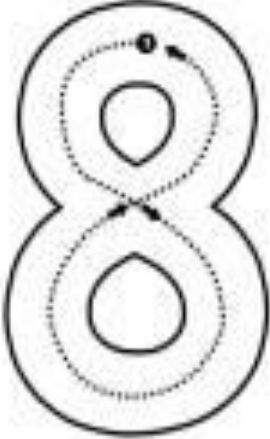
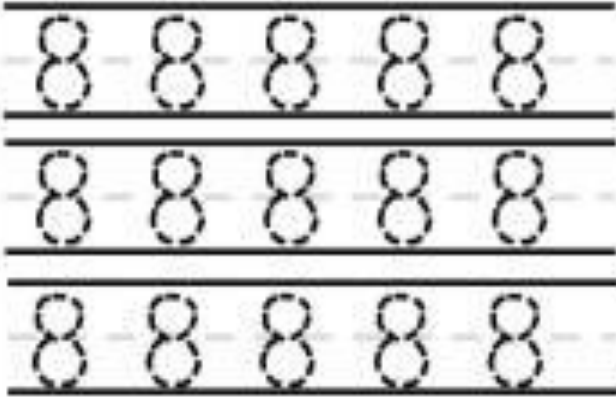

Colorea los número "8" que encuentres.



1	8	9	3	5	8	6
3	5	2	8	4	7	2
4	8	2	1	9	8	5
8	9	3	8	4	3	8
7	8	6	3	2	8	1
8	2	8	5	8	4	8
6	1	4	8	3	9	7

Actividad 5

Repasa con tu lápiz los números y pinta las imágenes.

<p>Traza</p>  <p>Ocho</p>	<p>Remarca</p> 										
<p>Cuenta</p> <table border="1" data-bbox="138 1087 771 1365"><tr><td>★</td><td>★</td><td>★</td><td>★</td><td>★</td></tr><tr><td>★</td><td>★</td><td>★</td><td></td><td></td></tr></table>	★	★	★	★	★	★	★	★			<p>Colorea 8</p> 
★	★	★	★	★							
★	★	★									

Actividad 6

Cuenta los koalas y responde la pregunta.

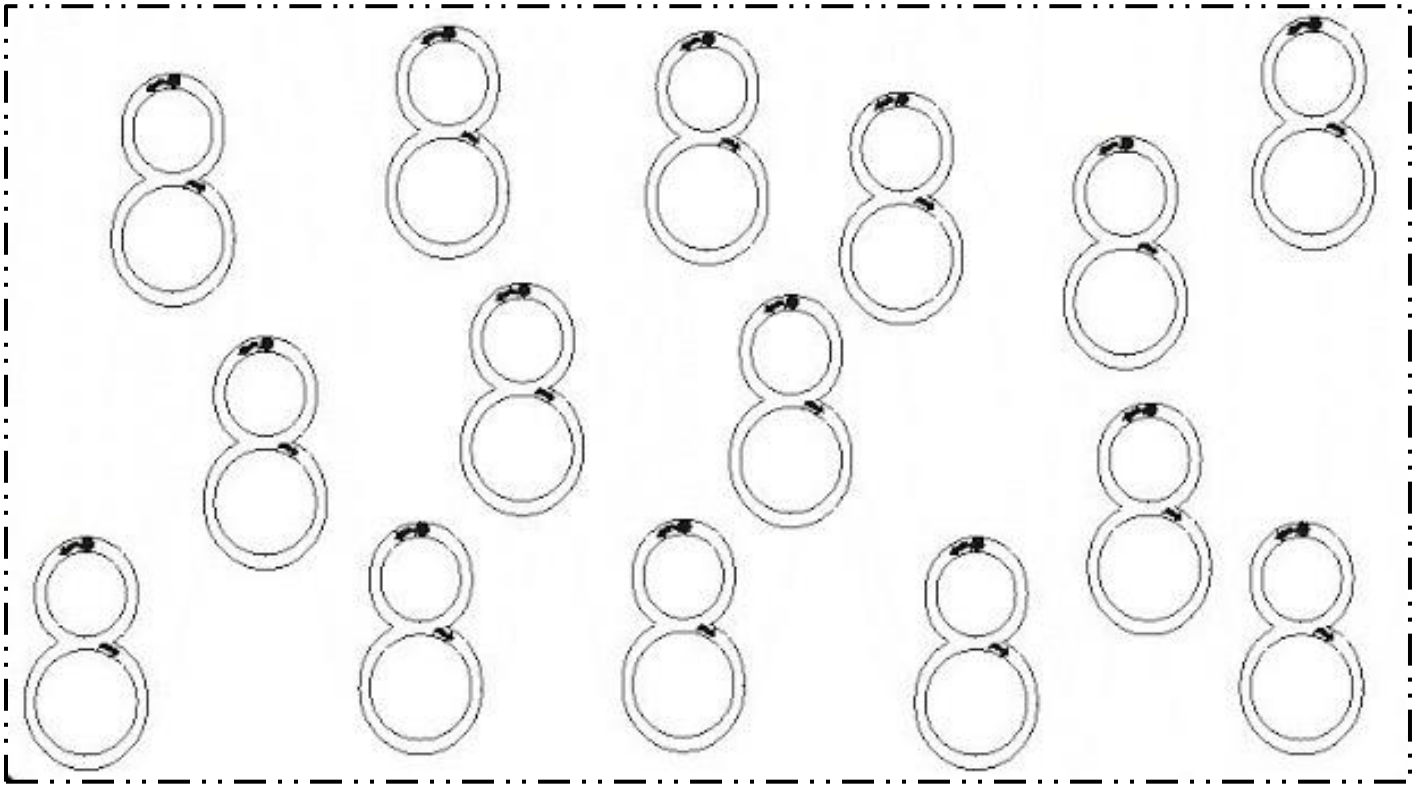


¿Cuántos hay?

Respuesta: Hay _____ koalas







Actividad 7

Repasa siguiendo la flecha, con tu lápiz, el número 8.



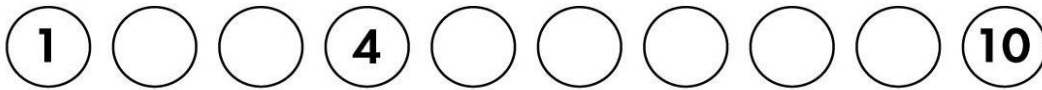
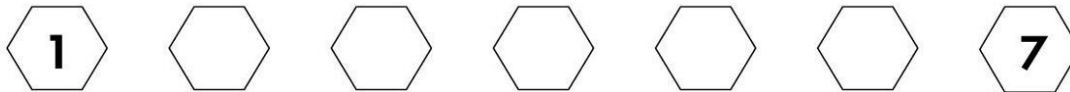
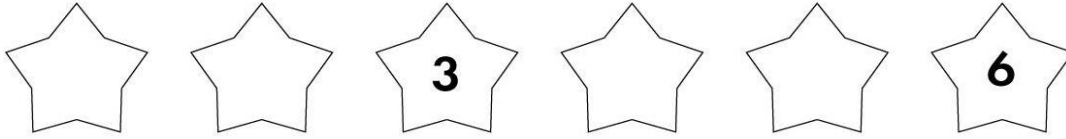
Actividad 8

Cuenta cuantos objetos hay y encierra el número que corresponda.

	
6 4 5	2 1 3
	
9 8 7	5 4 6
	
7 5 9	5 6 7

Actividad 9

Completa la serie numérica colocando el número que falta.



Actividad 10



TRABAJAREMOS CON EL ANTECESOR

Observa los números y completa los siguientes ejercicios, coloca el número que esta antes.

	6
--	---

	7
--	---

	2
--	---

	8
--	---

	5
--	---

	4
--	---

	1
--	---

	3
--	---

Actividad 11



TRABAJAREMOS CON EL SUCESOR

Observa los números y completa los siguientes ejercicios, coloca el número que esta antes.

4	
---	--

6	
---	--

7	
---	--

2	
---	--

3	
---	--

8	
---	--

5	
---	--

1	
---	--

Actividad 12

¿Cuántos hay?

Cuenta cada una de las imágenes según su especie y pinta cada cuadrado según la cantidad.

