



MATEMATICA

ASIGNATURA:	MATEMATICA	CURSO:	1º AÑO	DOCENTE:	ANA P. NEICUL Ñ.
ALUMNO:		FECHA:	SEMANA 03 AL 07/05 DE 2021		

Objetivo(s) de la Clase: Reconocer e identificar los números hasta 10.

LOS NUMEROS HASTA EL 10

Esta semana se va a trabajar con el número **7**, el que tiene siete elemento.

Y vamos a contar hasta el 10.

Actividad 1

Contar los números del 0 al 10.

7

Uno 1	Dos 2	Tres 3	Cuatro 4	Cinco 5
Seis 6	Siete 7	Ocho 8	Nueve 9	Diez 10

Actividad 2

Con una aguja o alfiler pincha cada punto que forma el número 7 y luego desprende la parte que lo representa y pégalo en una hoja de diario.

Y detrás de la hoja pega una hoja de diario, revista, papel lustre o alguna hoja de color y observa.




Actividad 3

En esta hoja pega el número 7 que desprendiste de la página anterior.

Actividad 4

Repasa con tu lápiz los números y pinta las imágenes.

Cuenta



Identifica



Grafica



Actividad 5

Remarca con color verde, todos los números **7** y descubre la imagen.

2	4	5	3	6	7	1	5	3	0	5
6	5	9	4	7	7	7	8	2	4	3
8	0	3	7	7	7	7	7	0	1	8
1	2	7	7	7	7	7	7	7	2	1
8	7	7	7	7	7	7	7	7	7	0
7	7	7	7	7	7	7	7	7	7	7
6	3	8	0	7	7	7	6	8	1	0
0	2	5	4	7	7	7	0	4	6	3
6	1	8	3	7	7	7	5	3	8	4

Actividad 6


Repasa los números y pinta la serie de cuadrados amarillo-azul-rojo





Actividad 7


¿Cuántos hay?


Colorea el número correcto:

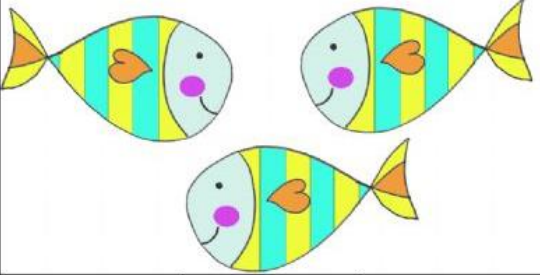
		
1	2	3

		
1	2	3

		
4	5	3


		
3	2	1

		
4	1	2


		
1	2	3


Actividad 8


Cuenta cuantos objetos hay y encierra el número que corresponda.


		
3	1	2

		
5	3	6

		
5	6	7

		
3	1	2

		
8	7	6


		
9	3	4

Actividad 9

Completa la serie colocando el número que falta.











	1		3	4
---	---	--	---	---

	2		4	5
---	---	--	---	---

	3			6
---	---	--	--	---

	5		7	
---	---	--	---	--

		8	9	
---	--	---	---	--

 1		 3		 5
	 7			 10

Actividad 10



TRABAJAREMOS CON EL ANTECESOR

Observa los números y completa los siguientes ejercicios, coloca el número que esta antes.

	4
--	---

	2
--	---

	5
--	---

	6
--	---

	7
--	---

	3
--	---



Actividad 11

1 uno 2 dos 3 tres 4 cuatro 5 cinco

6 seis 7 siete 8 ocho 9 nueve 10 diez

TRABAJAREMOS CON EL SUCESOR

Observa los números y completa los siguientes ejercicios, coloca el número que sigue.

5	
---	--

3	
---	--

2	
---	--

1	
---	--

6	
---	--

4	
---	--



Actividad 12

Recorta los números y crea una recta numérica.



Uno 1	Dos 2	Tres 3	Cuatro 4	Cinco 5
Seis 6	Siete 7	Ocho 8	Nueve 9	Diez 10